

## Конспект урока в 3 классе

Учитель: Шкляева Н.Н.

**Предметная область:** математика, краеведение, окружающий мир.

**Оборудование:** рулетка, карандаш, цветные фломастеры.

**Тема :** Обобщение и закрепление знаний.

**Цель:** организовать деятельность учащихся по обобщению знаний на практике.

### Задачи:

- Закреплять полученные знания на практике по измерению и нахождению площади объектов;
- Развивать умение решать текстовые задачи;
- Находить информацию в тексте и применять её при решении задач.

- Добрый день, ребята, посмотрите, на мою электронную почту пришло необычное письмо. (Показываю письмо с иероглифами). Но всё - таки мне удалось его расшифровать и сейчас мы прочитаем, что там написано.

- Дорогие ребята, мы прилетели к вам с планеты Марсиус.

Нам очень хочется познакомиться с вашей планетой и узнать больше о ваших достопримечательностях. Пожалуйста, помогите нам!

- Согласны помочь инопланетянам?

- Для этого нам нужно разделить на две группы и выполнить задания, которые наши друзья отправили. Чтобы разделить на группы вам нужно выбрать маску пришельца и определиться с группой. *(Дети выбирают маски и делятся на группы).*

- А сейчас вы получите листы с заданиями и определите место, о котором нам сообщают инопланетяне. *(учащиеся получают листы и приступают к выполнению заданий).*

- Вот и мы с вами выполнили последнее задание и приступим к презентации ваших работ. И сегодня же мне нужно отправить ваши работы на почту инопланетян.

- Понравился вам урок? Какие впечатления у вас от урока? Покажите это смайликом.

- Спасибо за работу.

Добрый день, мы инопланетяне с планеты Марсиус, прилетели к вам на Землю, чтобы исследовать ваши достопримечательности.

Какие интересные объекты в вашем округе вы можете порекомендовать?

Напишите в таблице:

Достопримечательность	Местонахождение

Мы слышали, что у вас есть место, которое известно не только в Удмуртии, но и за её пределами. Там стоит памятник неизвестному солдату.

Напишите название \_\_\_\_\_.

**Историческая справка:**

**4 августа 2012 года в деревне Нижняя Пыхта состоялось открытие Центра русской культуры «Рябинушка» на базе Нижнепыхтинского дома культуры. Здесь прошел первый республиканский фестиваль гармонистов «Играй гармонь, на Сибирском тракте».**

Задание : в каком году в Центр русской культуры будет отмечать 10 – летний юбилей?

Ответ: \_\_\_\_\_

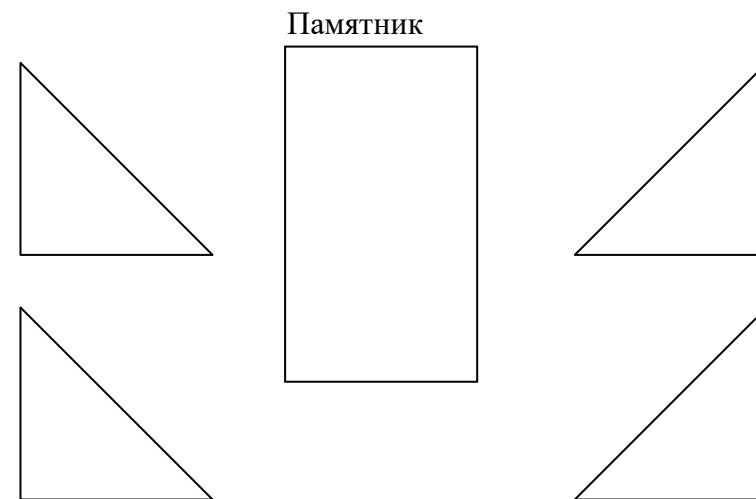
Наша тарелка имеет радиус 4 метра. Найдется ли на территории место, где мы можем приземлиться? Начертите окружность.

Мы хотим, чтобы территория Центра выглядела достойно и предлагаем вам благоустроить её. Для этого нам нужна ваша помощь. Измерьте дорожку от крыльца до памятника и высчитайте, сколько потребуется цемента, если ширина дорожки 2 м. А на 1 кв. м. потребуется 5 кг цемента.

Запишите ответ: \_\_\_\_\_.

Для красивого оформления в летний период нам нужно посадить цветы на клумбу.

Нарисуйте эскиз клумбы



**Спасибо за помощь!**

Добрый день, мы инопланетяне с планеты Марсиус, прилетели к вам на Землю, чтобы исследовать ваши достопримечательности. Какие интересные объекты в вашем округе вы можете порекомендовать?

Напишите в таблице:

Достопримечательность	Местонахождение

Мы слышали, что у вас есть место, которое известно не только в Удмуртии, но и за её пределами. Там стоит памятник неизвестному солдату.

Напишите название \_\_\_\_\_.

**Историческая справка:**

**4 августа 2012 года в деревне Нижняя Пыхта состоялось открытие Центра русской культуры «Рябинушка» на базе Нижнепыхтинского дома культуры. Здесь прошел первый республиканский фестиваль гармонистов «Играй гармонь, на Сибирском тракте».**

Задание : в каком году в Центр русской культуры будет отмечать 10 – летний юбилей?

Ответ: \_\_\_\_\_

Наша тарелка имеет радиус 4 метра. Найдется ли на территории место, где мы можем приземлиться? Начертите окружность.

Мы хотим, чтобы территория Центра выглядела достойно и предлагаем вам благоустроить её. Для этого нам нужна ваша помощь. Измерьте дорожку от крыльца до угла клуба и



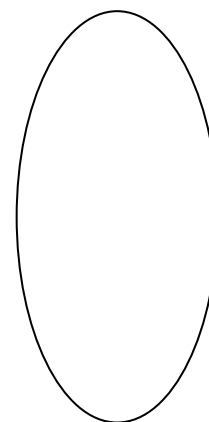
высчитайте, сколько потребуется цемента, если ширина дорожки 2 м. А на 1 кв. м. потребуется 5 кг цемента.

Запишите ответ: \_\_\_\_\_.

Для красивого оформления в летний период нам нужно посадить цветы на клумбу.

Нарисуйте эскиз клумбы

Памятник



**Спасибо за помощь!**



Download from  
**Dreamstime.com**

This watermarked comp image is for previewing purposes only.

ID 24181110

© Dreamzdesigner | Dreamstime.com